

نام :

نام خانوادگی:

تعداد صفحه سؤال : ۲ صفحه

جمهوری اسلامی ایران

اداره ی کل آموزش و پرورش شهر تهران

اداره ی آموزش و پرورش شهر تهران منطقه ۴ تهران

دبستان غیردولتی دخترانه سرای دانش واحد الغدیر

آزمون پایان ترم نوبت دوم سال تحصیلی ۱۴۰۱-۱۴۰۰

نام درس : ریاضی

پایه : پنجم

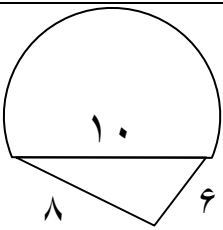
نام دبیر : نسیم میوادی

تاریخ امتحان : ۳۱ / ۰۲ / ۱۴۰۱

ساعت امتحان : ۸:۰۰

ردیف	راهنمای تصحیح	محل مهر یا امضاء مدیر												
۱	درستی و نادرستی عبارت های زیر را تعیین کنید . (با راه حل) الف) ۳ لیتر ۳۰۰ سی سی است . ب) عدد مخلوط $3\frac{1}{7}$ با کسر $\frac{23}{7}$ برابر است . ج) ۲۰ درصد عدد ۵۰۰ ، ۱۰۰ است . د) $1\frac{2}{25}$ با عدد اعشاری ۱/۰۸ برابر است .													
۲	جاهای خالی را کامل کنید . الف) مربع _____ محور تقارن دارد . ب) اندازه ی هر زاویه ی داخلی مثلث متساوی الاضلاع _____ است . ج) حجم مکعبی به ضلع ۰/۵ سانتی متر _____ سانتی متر مکعب است . د) ۴ برابر عدد $\frac{1}{72}$ _____ است .													
۳	گزینه مناسب را انتخاب کنید . ۰/۳ لیتر چند سی سی است . ثلث $\frac{1}{4}$ کدام گزینه است . حاصل $\frac{1}{86} - \frac{2}{7}$ کدام گزینه است؟	<table><tbody><tr><td>۳۰۰(۱)</td><td>۳۰۰۰(۲)</td><td>۰/۰۰۳(۳)</td><td>۳۰(۴)</td></tr><tr><td>$\frac{3}{4}$(۱)</td><td>$\frac{1}{3}$(۲)</td><td>$\frac{1}{12}$(۳)</td><td>$\frac{1}{5}$(۴)</td></tr><tr><td>۰/۶۴(۱)</td><td>۰/۸۴(۲)</td><td>۱/۷۳(۳)</td><td>۲/۱(۴)</td></tr></tbody></table>	۳۰۰(۱)	۳۰۰۰(۲)	۰/۰۰۳(۳)	۳۰(۴)	$\frac{3}{4}$ (۱)	$\frac{1}{3}$ (۲)	$\frac{1}{12}$ (۳)	$\frac{1}{5}$ (۴)	۰/۶۴(۱)	۰/۸۴(۲)	۱/۷۳(۳)	۲/۱(۴)
۳۰۰(۱)	۳۰۰۰(۲)	۰/۰۰۳(۳)	۳۰(۴)											
$\frac{3}{4}$ (۱)	$\frac{1}{3}$ (۲)	$\frac{1}{12}$ (۳)	$\frac{1}{5}$ (۴)											
۰/۶۴(۱)	۰/۸۴(۲)	۱/۷۳(۳)	۲/۱(۴)											
۴	کالایی را با ۳۰ درصد تخفیف ۲۸۰ هزار تومان خریده ایم . قیمت اولیه ی کالا چه قدر بوده است؟													
۵	برای جدول زیر نمودار دایره ای رسم کنید . <table border="1"><thead><tr><th>تعداد</th><th>نوع کتاب</th></tr></thead><tbody><tr><td>۱۰۰</td><td>علمی</td></tr><tr><td>۲۰۰</td><td>شعر</td></tr><tr><td>۳۰۰</td><td>داستان</td></tr></tbody></table>	تعداد	نوع کتاب	۱۰۰	علمی	۲۰۰	شعر	۳۰۰	داستان					
تعداد	نوع کتاب													
۱۰۰	علمی													
۲۰۰	شعر													
۳۰۰	داستان													

محیط شکل زیر را به دست آورید .

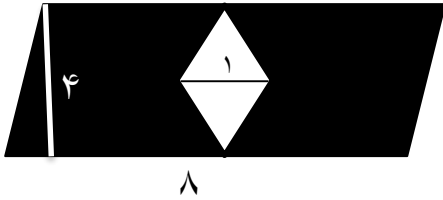


۶

مساحت یک لوزی به قطر بزرگ ۸ ، ۲۰ می باشد . قطر کوچک لوزی چند است ؟

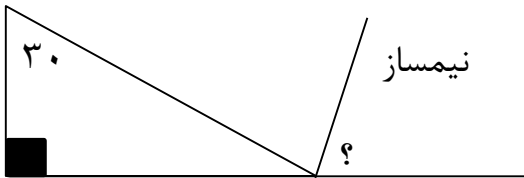
۷

مساحت قسمت رنگی را بیابید .



۸

اندازه ی زاویه مورد نظر را به دست آورید .



۹

۵ لیتر آب را در ظرف هایی به گنجایش $\frac{1}{4}$ لیتری می ریزیم .
به چند ظرف احتیاج داریم .

۱۰

هم اکنون ۵ خرداد ۱۳۷۰ است. ۳ سال و ۵ ماه و ۳ روز پیش چه تاریخی بوده است ؟

۱۱

موفق باشید.