

نام و نام خانوادگی:
 پایه: پنجم
 نام پدر:
 شماره داوطلب:
 تعداد صفحه سؤال: ۲ صفحه

جمهوری اسلامی ایران
 اداره ی کل آموزش و پرورش شهر تهران
 اداره ی آموزش و پرورش شهر تهران منطقه ۵ تهران
 پیش دبستان و دبستان غیردولتی دخترانه **نریشتر**
 ارزشیابی عملکردی نوبت دوم سال تحصیلی ۱۴۰۱-۱۴۰۰

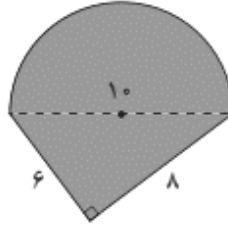
نام درس: ریاضی
 نام دبیر: خانم سمیرا مرادزاده
 تاریخ امتحان: ۱۴۰۱ / ۲ / ۳۱
 ساعت امتحان: ۰۰ : ۰۸ : صبح / عصر
 مدت امتحان: ۱۲۰ دقیقه

ردیف	سؤالات
۱	<p>جاهای خالی را با کلمات مناسب کامل کنید.</p> <ul style="list-style-type: none"> • مجموع زاویه های داخلی یک چهار ضلعی برابر است. • خطی که زاویه را به دو قسمت مساوی تقسیم میکند می نامند. • عدد ۲۷۰۰۵۰۰ از تا یک میلیون و ۷ تا و ۵ تا ساخته شه است. • متوازی الاضلاع خط تقارن اما مرکز تقارن • برای نشان دادن درصد قبولی دانش آموزان یک کلاس نمودار مناسب تر است.
۲	<p>حاصل عملیات های زیر را به دست آورید.</p> $2\frac{2}{5} + 1\frac{3}{10} =$ $5\frac{1}{4} - 2\frac{10}{12} =$ $4\frac{1}{5} \times 2\frac{1}{3} =$ $6 \div 0.3 \times 3 \div 2 =$ $8 \div 27 + 3 \div 935 =$ $7 - 3\frac{2}{4} =$ $\frac{5}{3} + 1\frac{1}{5} =$ $\frac{8}{5} \div \frac{12}{10} =$ $4 \div 1 \times 0 \div 8 =$ $12 \div 4 - 5 \div 28 =$ <div style="display: flex; justify-content: space-around; margin-top: 20px;"> <div style="text-align: center;"> $\begin{array}{r} 6 \\ + 4 \\ \hline 10 \end{array}$ </div> <div style="text-align: center;"> $\begin{array}{r} 24 \\ - 31 \\ \hline -7 \end{array}$ </div> <div style="text-align: center;"> $\begin{array}{r} 28 \\ - 41 \\ \hline -13 \end{array}$ </div> <div style="text-align: center;"> $\begin{array}{r} 8 \\ - 2 \\ \hline 6 \end{array}$ </div> <div style="text-align: center;"> $\begin{array}{r} 29 \\ - 18 \\ \hline 11 \end{array}$ </div> <div style="text-align: center;"> $\begin{array}{r} 25 \\ - 57 \\ \hline -32 \end{array}$ </div> </div>
۳	<p>در شکل های زیر اندازه زاویه خواسته شده را به دست آورید.</p> <div style="display: flex; justify-content: space-around; margin-top: 20px;"> <div style="text-align: center;"> </div> <div style="text-align: center;"> </div> </div>

محیط شکل های زیر را به دست آورید.




شعاع : ۱۰



۴

برای جدول داده های زیر نمودار خط شکسته رسم کنید.

روزهای هفته	دما درجه
شنبه	۲۰
یکشنبه	۲۲
دوشنبه	۲۴
سه شنبه	۲۲
چهارشنبه	۲۶
پنج شنبه	۲۰



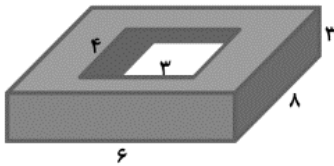
۵

۳ و $\frac{۹}{۵}$ و $۱۲\frac{۱}{۴}$ و $۱۲\frac{۱}{۶}$ و $\frac{۴}{۷۵}$

میانگین عددهای مقابل را به دست آورید.

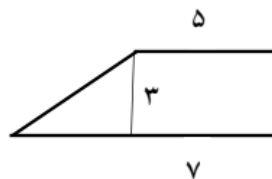
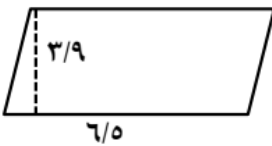
۶

چند درصد از حجم شکل رو به رو بریده شده است؟



۷

مساحت شکل های زیر را به دست آورید.



۸