

نام و نام خانوادگی:

اداره آموزش و پرورش ناحیه یک اردبیل

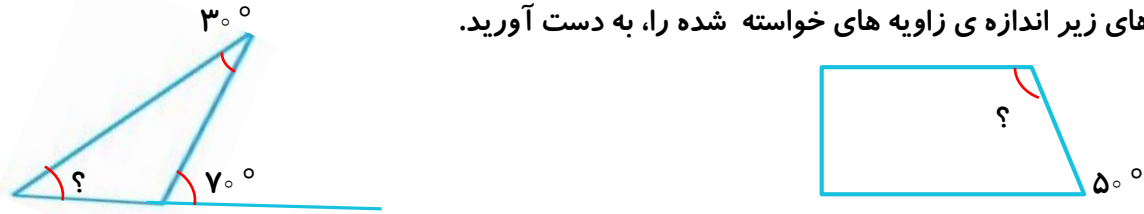
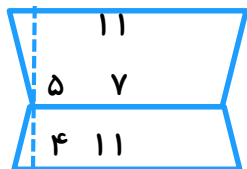
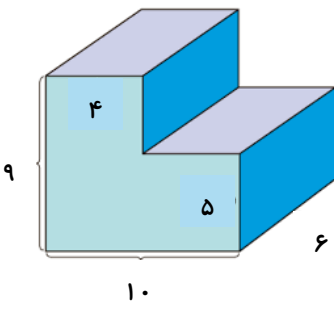
مدت آزمون: ۹۰ دقیقه

دبستان افسر صادقی (۱)

تاریخ آزمون: ۴۰۱/۶/....

آزمون نوبت شهریور ریاضی پایه پنجم

ردیف	شرح سوالات	بارم
۱	عدد ۲۷۰۰۵۰۰ از تا یک میلیون و ۷ تا و ۵ تا ساخته شده است.	
۲	عدد پانزده میلیارد و دو بیست و هشت میلیون و سی و هفت هزار و شش را، با رقم بنویسید.	
۳	حاصل جمع و تفریق اعداد مرکب زیر را به دست آورید. $\begin{array}{r} 35 \\ 29 \\ 8 \\ \hline \end{array}$ $\begin{array}{r} 38 \\ 24 \\ 6 \\ \hline \end{array}$ $\begin{array}{r} 57 \\ 18 \\ 2 \\ \hline \end{array}$ $\begin{array}{r} 41 \\ 31 \\ 4 \\ \hline \end{array}$	
۴	حاصل عبارت های زیر را به دست آورید. $2\frac{2}{3} + 1\frac{1}{5} =$ $2\frac{2}{5} + 1\frac{3}{10} =$ $5\frac{1}{4} - 2\frac{10}{12} =$ $7 - 3\frac{2}{4} =$ $4\frac{1}{5} \times 2\frac{1}{3} =$ $\frac{3}{12} \times \frac{4}{9} =$ $6 \div \frac{1}{9} =$ $\frac{1}{6} \div 2 =$	
۵	برای ساختن نوعی بتن، ۷ پیمانہ ماسه را، با ۲ پیمانہ سیمان، مخلوط می کنند. در ۱۸۹ پیمانہ از این مخلوط، چند پیمانہ ماسه و چند پیمانہ سیمان وجود دارد؟	
۶	٪۷۰ دانش آموزان یک کلاس ۱۴ نفر است. تعداد دانش آموزان این کلاس چند نفر است؟	
۷	حاصل جمع و تفریق های زیر را به دست آورید. $\begin{array}{r} 8 \\ 3 \\ \hline \end{array}$ $\begin{array}{r} 27 \\ 935 \\ \hline \end{array}$ $\begin{array}{r} 124 \\ 528 \\ \hline \end{array}$	

بارم	شرح سوالات	ردیف
	<p>در شکل های زیر اندازه ی زاویه های خواسته شده را، به دست آورید.</p> 	۸
	<p>حاصل ضرب های زیر را، به دست آورید.</p> <p> $300 \times 3 =$ $8 \div 1 =$ $10 \times 4 =$ $7 \div 3 =$ </p>	۹
	<p>مساحت شکل زیر را، به دست آورید.</p> 	۱۰
	<p>رویای می خواهد دور یک رومیزی که به شکل دایره است، نوار بدوزد. اگر شعاع آن رومیزی ۱/۵ متر باشد، اوبه چند متر نوار نیاز دارد؟</p>	۱۱
	<p>حجم شکل زیر را پیدا کنید. (واحدها سانتی متر هستند).</p> 	۱۲
	<p>میانگین اعداد ۱۸، ۱۹، ۲۰، ۲۷ را به دست آورید.</p>	۱۳
	<p>برای پاسخ دادن به موارد زیر، از (به احتمال بیشتر، به احتمال کمتر، به احتمال برابر، به طور حتم اتفاق می افتد، به طور حتم اتفاق نمی افتد) استفاده کنید.</p> <p>الف: احتمال این که بعداز روز، شب بیاید. (.....)</p> <p>ب: احتمال این که در پرتاب تاس عدد ۷ بیاید. (.....)</p> <p>ج: احتمال این که در پرتاب تاس عدد زوج بیاید. (.....)</p>	۱۴