

اداره کل آموزش و پرورش استان اصفهان

معاونت آموزش متوسطه

اداره آموزش دوره اول متوسطه

تحصیل آزمون پیشرفت

آموزش دوره اول متوسطه
استان اصفهان

مرحله اول

پایه هفتم

آزمون نمره منفی دارد

زمان : ۹۰ دقیقه

ردیف	نام درس	تعداد سوال	از شماره	تا شماره
۱	قرآن	۶	۱	۶
۲	پیام‌های آسمان	۶	۷	۱۲
۳	عربی	۸	۱۳	۲۰
۴	ادبیات فارسی	۱۲	۲۱	۳۲
۵	مطالعات اجتماعی	۱۰	۳۳	۴۲
۶	ریاضی	۱۵	۴۳	۵۷
۷	علوم تجربی	۱۵	۵۸	۷۲
۸	زبان انگلیسی	۸	۷۳	۸۰

آذرماه ۱۳۹۳

قرآن

- ۱- معنای کلمه «ها» در کدام گزینه با بقیه متفاوت است؟
 الف) أَلَا إِنَّ لِلَّهِ مَا فِي السَّمَاوَاتِ وَالْأَرْضِ
 ب) وَمَا خَلَقَ اللَّهُ فِي السَّمَاوَاتِ وَالْأَرْضِ
 ج) مَا خَلَقَ اللَّهُ ذَلِكَ إِلَّا بِالْحَقِّ
 د) هَلْ عَلِمْتُمْ مَا فَعَلْتُمْ بِيُوسُفَ
- ۲- ترجمه کدام گزینه نادرست است؟
 الف) إِلَّا = مگر
 ب) إِلَى = به
 ج) عَلِيٌّ = بر
 د) أَلَا = آیا مگر
- ۳- کدام ترکیب حروف ناخوانای کمتری دارد؟
 الف) ذِي الطُّولِ
 ب) عَلَى الارضِ
 ج) وَ فَمِنْ إِهْتِدَا
 د) فِي اخْتِلَافِ
- ۴- کدام ترکیب به صورت جمع ترجمه نمی‌شود؟
 الف) مِلَّةَ آبَائِي
 ب) أَجْرَ الْمُحْسِنِينَ
 ج) قَالَ يَقُومِ
 د) عَمَّا تَعْمَلُونَ
- ۵- ترجمه کدام گزینه درست است؟
 الف) عَمَّا = از آنچه
 ب) قُلِ اللَّهُ = گفت خدا
 ج) أَبِي = پدرانم
 د) إِنَّنَا = به راستیکه
- ۶- در آیه «رَبَّنَا اغْفِرْ لِي وَلِوَالِدَيَّ وَلِلْمُؤْمِنِينَ يَوْمَ يَقُومُ الْحِسَابُ» چند گروه مورد مغفرت قرار می‌گیرند؟
 الف) یک گروه
 ب) دو گروه
 ج) سه گروه
 د) چهار گروه

پیام‌های آسمان

- ۷- لطف و نعمت‌های خداوند به ما انسان‌ها، نشانگر کدام یک از گزینه‌های زیر نیست؟
 الف) عنایت و توجه
 ب) محبت
 ج) مراقبت
 د) عبادت
- ۸- کدام یک از گزینه‌های زیر از شرایط بهره‌مندی از یاری خدا نیست؟
 الف) بد اخلاقی
 ب) صبر
 ج) دعا
 د) نماز
- ۹- کدام یک از آیات زیر «به معاد و زندگی پس از مرگ» اشاره دارد؟
 الف) لَئِن شَكَرْتُمْ لَأَزِيدَنَّكُمْ (ب) إِذِ يَتَوَفَّى الَّذِينَ كَفَرُوا (ج) هُوَ مَعَكُمْ أَيْنَ مَا كُنْتُمْ (د) إِيَّاكَ نَعْبُدُ وَإِيَّاكَ نَسْتَعِينُ
- ۱۰- صدقه دادن فقط نیست و هر نوع در راه خدا را شامل می‌شود.
 الف) جانی-کمک به دیگران ب) زبانی-یاد دادن به دیگران (ج) مالی-کمک به دیگران (د) جانی-کار، حتی استراحت
- ۱۱- کدام جمله پیامبر رحمت را، کامل‌تر معرفی می‌کند؟
 الف) بِالْمُؤْمِنِينَ رُؤُوفٌ رَحِيمٌ
 ب) إِنَّكَ لَعَلَى خُلُقٍ عَظِيمٍ
 ج) وَمَا أَرْسَلْنَاكَ إِلَّا رَحْمَةً لِّلْعَالَمِينَ
 د) لَقَدْ كَانَ لَكُمْ فِي رَسُولِ اللَّهِ أُسْوَةٌ حَسَنَةٌ
- ۱۲- خوشحالی حضرت زهرا(س) از تقسیم کار مربوط به کدام صفت ایشان است؟
 الف) علاقه شدید به پیامبر(ص) (ب) حضور در صحنه اجتماع (ج) حیا و عفت
 د) ساده زیستی

عربی

- ۱۳- کدام گزینه نادرست است؟
 الف) هَذَانِ، أَمَانَ مَسْرُورَانِ (ب) هؤَلاءِ الرِّجَالِ، مَعْلَمُونَ (ج) هَذِهِ، لَاعِبَةٌ أِيرَانِيَّةٌ (د) اولئكَ، طَالِبَاتٌ نَاجِحَاتٌ
- ۱۴- پرسش و پاسخ در کدام گزینه درست می‌باشد؟
 الف) أَيْنَ الطِّفْلِ؟ عِنْدَ أُمِّهِ .
 ب) مَنْ هِيَ؟ هُوَ زَكَرِيَا الرِّزَازِي .
 ج) مَنْ أَنْتَ؟ أَنَا مَدِيرَةُ الْمَدْرَسَةِ .
 د) لِمَنْ هَذِهِ الْحَقِيبَةُ؟ هَذِهِ الْحَقِيبَةُ هُنَا .

۱۵- متضاد کلمات «حَسُنُ، رَخِيصَةٌ، كَثِيرٌ، جَالِسٌ» به ترتیب می‌شود:

(الف) سوء، غالیة، قلیل، وَقَفَ (ب) سوء، غالیة، قلیل، واقف (ج) سوء، قلیل، غالیة، واقف (د) أَحْسَنُ، سوء، غالیة، قلیل

۱۶- ترجمه صحیح عبارت «اولئك اللعابث، صابرات» کدام است؟

(الف) آنها، بازیکنانی شکیباهستند. (ب) آن بازیکنان، شکیباهستند. (ج) این بازیکنان، شکیباهستند. (د) اینها، بازیکنانی شکیباهستند.

۱۷- ترجمه کدام عبارت نادرست است؟

(الف) لهذا الصف، بابان کبیران: این کلاس، دو در بزرگ دارد. (ب) الولد الصالح، فخر للوالدین: فرزند خوب، باعث افتخار پدر و مادر است.

(ج) الجهل موت الأحياء: نادانی، مرگ زندگان است. (د) عَلَيْكَ بالتفكير: او باید فکر کند.

۱۸- گزینه درست کدام است؟

(الف) هولاء البنات، فی ذلك المسابقة ناجحات. (ب) هذان السيدتان، مجاهدتان.

(ج) اولئك الأصدقاء، مسرورون. (د) زهراء و مريم، جالسان.

۱۹- کدام گزینه، پاسخ «من انت؟» است؟

(الف) انت مُدْرِسٌ (ب) هو مدير المدرسة (ج) انا رَجُلٌ (د) هو ناخِجٌ فی الصف

۲۰- جمله «هي سائقة السيارة» در پاسخ کدام سوال است؟

(الف) هل هي سائقة؟ (ب) من هي؟ (ج) لمن السيارة؟ (د) أ، لِسَيَّارَةٍ سَائِقَةٍ؟

ادبیات فارسی

۲۱- معنی واژه های «فارغ، دمساز، بصیرت، تأمل» به ترتیب در کدام گزینه آمده است؟

(الف) آسوده، همدم، چشم، تلاش و کوشش (ب) جدایی، همدم، آگاهی، اندیشه کردن

(ج) راحت، سازگار، بینش و آگاهی، فکر کردن (د) آسوده، سازگار، درستی، درنگ کردن

۲۲- مفهوم کدام گزینه درست نیست؟

(الف) تو را توش هنر می‌باید اندوخت (باید فن و دانش آموخت و تجربه اندوخت)

(ب) بیاید هر دو پا محکم نهادن (توانا و قدرتمند شدن)

(ج) فتاد از پای، کرد از عجز فریاد (ناتوان و خسته شد)

(د) مثل یک چشمه سار، جاری شد (در بهار چشمه‌ها جاری می‌شوند)

۲۳- «قصه‌های مجید» و «گویر» به ترتیب از کدام نویسندگان هستند؟

(الف) هوشنگ مرادی کرمانی و دکتر شریعتی (ب) نادر ابراهیمی و قیصر امین پور

(ج) طاهره اید و دکتر شریعتی (د) قیصر امین پور و محمدجواد محبت

۲۴- املاي کدام گزینه با توجه به معنی آن نادرست است؟

(الف) غیرت: آبرو (ب) اثنا: میانه‌ها (ج) اعتراف: بر زبان آوردن (د) سلاح: درستی

۲۵- در کدام گزینه مسند درست مشخص نشده است؟

(الف) نگشت آسایشم یک لحظه دمساز (ب) ز وحشت سست شد بر جای ناگاه

(ج) علی با عجله رفته است (د) دانه‌ها چون در زمین پنهان شود

۲۶- در کدام گزینه آرایه‌ی تشخیص و تشبیه وجود ندارد؟

(الف) برگ درختان سبز در نظر هوشیار (ب) غنچه هم گفت گر چه دل تنگم

(ج) شبنم از روی برگ گل برخاست (د) این درختانند همچون خاکیان

(د) این درختانند همچون خاکیان (ب) غنچه هم گفت گر چه دل تنگم

(ج) شبنم از روی برگ گل برخاست (د) این درختانند همچون خاکیان

هر ورقش دفتری است معرفت کردگار
مثل لبخند باز خواهیم شد
گفت می خواهیم آفتاب شوم
دست‌ها بر کرده اند از خاکدان

- ۲۷- در کدام گزینه کلمه‌های هم خانواده نادرست آمده است؟
 الف) متعال، تعالی، تعادل ب) مقتدر، اقتدار، قادر ج) شاعر، مشاعره، شعور د) سعادت، سعید، مسعود
- ۲۸- مفهوم بیت‌رو به‌رو در کدام گزینه درست ذکر نشده است؟ «جهان جمله فروغ‌روی حق‌دان / حق اندر وی زیدایی است پنهان»
 الف) تمام دنیا پر تو وجود خداوند است.
 ج) در پدیده‌های آفرینش با دقت نگاه کنیم.
 ب) به دنیای گذران اعتماد نکنیم.
 د) طبیعت جلوه‌ای از حق است.
- ۲۹- با توجه به بیت «این زندگی، حلال کسانی که همچو سرو / آزاد زیست کرده و آزاد می‌روند»، کدام گزینه غلط است؟
 الف) در این بیت، سرو نماد انسان‌های آزاده و وارسته‌می‌باشد. ب) به دنیای مادی دل نبندیم، تا برایمان حلال و خوش باشد.
 ج) این زندگی باید با حلال همراه باشد. د) در این بیت آرایه تکرار و تشبیه وجود دارد.
- ۳۰- مفرد و جمع واژه‌ها در کدام گزینه به درستی نوشته نشده است؟
 الف) عنوان و عناوین ب) علم و علوم ج) اعجاز و معجزه د) سیر و آسرار
- ۳۱- نقش کلماتی که زیر آن خط کشیده شده در کدام گزینه آمده است؟
 «دانه آرام بر زمین غلتید»
 الف) مفعول، متمم، مفعول ب) نهاد، متمم، نهاد ج) نهاد، متمم، مفعول د) نهاد، قید، مفعول
 رفت و انشای کوچکی را خواند»
- ۳۲- مفهوم کنایی در کدام گزینه نادرست آمده است؟
 الف) بر کسی این در مکن زنهار باز (کنایه از پنهان کردن راز) ب) کوته‌ز درت دراز دستی (کنایه از زورگویی به درگاه خدا راه‌ندارد)
 ج) دست گیر (کنایه از کمک کردن و یاری رساندن) د) دندان بر دندان ساییدن (کنایه از تعجب و شگفتی)

مطالعات اجتماعی

- ۳۳- انسان‌ها از چه زمانی دارای حقوق طبیعی می‌شوند؟
 الف) زمانی که تبعه یک کشور می‌شوند.
 ج) زمانی که وارد مدرسه می‌شوند.
 ب) از ابتدای خلقت و تولد.
 د) از سن ۱۸ سالگی.
- ۳۴- این جمله: «تلاش می‌کنم با زبانم دروغ نگویم یا غیبت نکنم» بیانگر مسئول بودن در برابر کیست؟
 الف) خودم ب) دیگران ج) محیط زندگی د) عالم خلقت
- ۳۵- صاحبان‌بنگاه‌ها، شرکت‌ها و کارفرمایان سازمان‌ها وظیفه دارند همه‌ی کارمندان و کارگران خود را در مقابل بیمه کنند.
 الف) تصادفات ب) آتش‌سوزی ج) حوادث ناشی از کار د) بیماری‌ها
- ۳۶- نظارت بر انتخابات کشور، از وظایف کدام نهاد می‌باشد؟
 الف) شورای نگهبان ب) مجلس خبرگان ج) مجلس شورای اسلامی د) قوه مجریه
- ۳۷- کوه‌های کرکس در کدام قسمت ایران قرار دارد؟
 الف) جنوب شرقی ب) مرکز ج) شمال شرقی د) شمال غربی
- ۳۸- اگر در کنار نقشه‌ای این مقیاس خطی وجود داشته باشد، فاصله‌ی دو شهر که بر روی نقشه ۴ سانتیمتر است، بر روی زمین چند کیلومتر است؟
 الف) ۴۰۰ ب) ۶۰۰ ج) ۸۰۰ د) ۱۰۰۰
-
- ۳۹- فاطمه با دیدن صحنه‌های بیماران کودکان غزه، به شدت متأثر شد و سعی کرد که خود را جای آنها بگذارد. به این کار او چه می‌گویند؟
 الف) همدلی ب) همدردی ج) همیاری د) هم‌زبانی

- ۴۰- از مهم‌ترین عناصر آب و هوا به شمار می‌آید؟
 الف) ارتفاع و بارش ب) دما و بارش ج) ارتفاع و دما د) دوری از دریا و ارتفاع
- ۴۱- دانش و مهارت جزء کدام عوامل تولید محسوب می‌شود؟
 الف) سرمایه ب) منابع طبیعی ج) اقتصاد د) نیروی انسانی
- ۴۲- کدام گزینه صحیح نمی‌باشد؟
 الف) به مواد اولیه، مواد خام می‌گویند.
 ب) ثبت تاریخ مصرف مواد غذایی و بهداشتی اجباری است.
 ج) هر کس می‌تواند به دلخواه کارگاه تولید مواد غذایی تاسیس کند. د) موسسه استاندارد کیفیت کالاها را بررسی می‌کند.

ریاضی

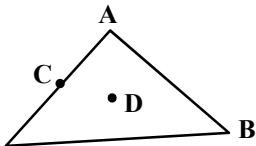
میهن مکتب

- ۴۳- ساده شده‌ی عبارت $۳(x-۲ax-۵)-۲(۴x-۳ax-۷)$ کدام گزینه است؟
 الف) $-۵x+۱$ ب) $-۵x-۱$ ج) $-۵x-۱۲x+۱$ د) $-۵x+۱۲x-۱$
- ۴۴- دمای دو شهر A و B قرینه هم‌دیگر هستند و دمای شهر C، ۲ درجه زیر صفر است. قرینه میانگین این سه شهر کدام است؟
 الف) $+۴$ ب) $+۱۲$ ج) -۴ د) -۱۲
- ۴۵- حاصل عبارت $۸-۱۴ \div ۲ \times ۷ + ۳(-۷+۱۵)$ کدام گزینه است؟
 الف) -۱۷ ب) ۱۷ ج) ۳۱ د) -۳۱
- ۴۶- در شکل زیر M وسط \overline{AB} و N وسط \overline{CD} می‌باشد. اگر $\overline{BD} = ۶۰$ و $\overline{AC} = ۱۲۰$ سانتی‌متر باشد. آنگاه طول \overline{MN} کدام است؟ ($\overline{AD} = ۱۵۰$ سانتی‌متر)

 الف) ۱۵۰ ب) ۶۰ ج) ۹۰ د) ۱۲۰
- ۴۷- اختلاف مکمل و متمم هر زاویه چند درجه است؟
 الف) ۹۰ درجه ب) ۱۸۰ درجه
 ج) ۵۵ درجه د) نمی‌توان محاسبه کرد و به زاویه بستگی دارد.
- ۴۸- حاصل عبارت $(۸x-۲۱y)-(۷x-۳y)$ به ازای $x=۷۴$ و $y=-۱۸۴$ کدام گزینه است؟
 الف) -۲۸۵ ب) ۱۸۵ ج) ۱۷۴ د) -۷۴
- ۴۹- مثلث روبه‌رو را نسبت به کدام نقطه دوران دهیم تا شکل دوران یافته آن و خود مثلث (بدون این که تبدیل دیگری انجام دهیم) تشکیل یک متوازی الاضلاع دهند؟
 الف) نسبت به نقطه‌ی A، ۹۰ درجه خلاف حرکت عقربه‌های ساعت
 ب) نسبت به نقطه‌ی B، ۱۸۰ درجه
 ج) نسبت به نقطه‌ی C، ۱۸۰ درجه
 د) نسبت به نقطه‌ی D، ۱۸۰ درجه
- ۵۰- حاصل عبارت روبه‌رو کدام است؟

$$\left(\frac{1}{۲} + \frac{1}{۴} + \frac{1}{۸} + \frac{1}{۱۶} + \dots + \frac{1}{۱۲۸}\right) \left(\frac{1}{۵} \times \frac{۵}{۷۰} \times \frac{۷۰}{۱۲۷}\right)$$

 الف) $\frac{۱۲۷}{۱۲۸}$ ب) $\frac{1}{۱۲۸}$
 ج) $\frac{۱۲۸}{۱۲۷}$ د) $\frac{۱۲۷}{۱۲۸}$
- ۵۱- عدد بعدی در الگوی عددی زیر چیست؟
 ۲۹، ۳۱۶، ۴۲۵، ۵۳۶، ۶۴۹، ...
 الف) ۷۶۴ ب) ۸۲۹ ج) ۹۸۱ د) ۸۶۴
- ۵۲- حاصل عبارت $(۲a+۱)(۲a+۲)(۲a+۳) \dots (۲a+۱۰۰۰)$ به ازای $a = -۲۵۱$ کدام است؟
 الف) ۱ ب) صفر ج) ۱۰۰ د) -۱۰۰



۵۳- حاصل عبارت مقابل در کدام گزینه آمده است؟
 الف) ۳۴ (ب) ۱۸- (ج) ۳۶- (د) ۱۲-

۵۴- کدام تبدیل هندسی جهت شکل را تغییر نمی‌دهد؟

الف) دوران (ب) تقارن

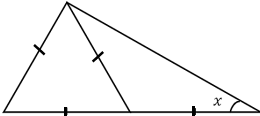
۵۵- با توجه به شکل مقابل اندازه زاویه x چند درجه است؟

الف) ۶۰ (ب) ۳۰

ج) ۴۰ (د) ۵۰

د) گزینه‌های «الف» و «ب»

ج) انتقال



۵۶- یک توپ پس از هر بار زمین خوردن یک سوم دفعه‌ی قبل بالا می‌آید. اگر پس از به زمین خوردن در دفعه سوم

۲۰۰ سانتیمتر بالا بیاید، در ابتدا از چه ارتفاعی رها شده است؟

الف) ۳ متر (ب) ۱۸۰ سانتی‌متر

ج) ۳۰ متر (د) ۵۴۰۰ سانتی‌متر

(-۲۰-۱۹-۱۸-...-۱-۰) - (-۱-۲-۳-...-۲۲)

۵۷- حاصل عبارت روبه‌رو کدام گزینه است؟

الف) ۴۳ (ب) ۱۸۴-

ج) ۴۶۴- (د) ۱۰۰

علوم تجربی

۵۸- کدام عبارت صحیح نیست؟

الف) سوال کردن و تلاش برای یافتن جواب، مهمترین نکته در علم است.

ب) گوگرد، نمک و جوهر نمک، در آب حل می‌شوند.

ج) تبدیل علم به عمل را فناوری می‌گوییم.

د) فن آوری‌ها، معایبی هم دارند.

۵۹- به نظر شما جرم یک توپ فوتبال معمولی حدوداً چقدر است؟

الف) ۱/۲ - ۱ کیلوگرم (ب) ۴۰۰ - ۵۰۰ گرم (ج) ۱۵۰ - ۱۰۰ گرم (د) کمتر از ۱۰۰ گرم

۶۰- ماده‌ی اولیه برای ساخت کارد و چنگال چیست؟

الف) سنگ معدن آهن (ب) مس (ج) فولاد زنگ نزن (د) چدن

۶۱- کمترین فاصله بین دو درجه‌ی متوالی در یک خط گش ۵/۰ سانتی‌متر است. کدام عدد نمی‌تواند حاصل اندازه‌گیری

طول اجسام با این خط کش باشد؟

الف) ۰/۱۲ متر (ب) ۰/۱۳۵ متر (ج) ۳۵ میلی‌متر (د) ۲۷ میلی‌متر

۶۲- کدام جمله درباره‌ی یخچال‌ها صحیح نیست؟

الف) هر کجا که یخ و برف وجود داشته باشد، یخچال محسوب می‌شود.

ب) در قطب‌های زمین یخچال‌های عظیمی وجود دارد.

ج) در جایی یخچال تشکیل می‌شود که بارش‌ها عمدتاً به صورت برف هستند.

د) در نقاط بلند و مرتفع سطح خشکی‌ها یخچال وجود دارد.

۶۳- کدام یک چکش خوار نیست؟

الف) مس (ب) نقره (ج) طلا (د) گوگرد

۶۴- در حدود یک پنجم هوا را گاز اکسیژن تشکیل داده است. یک مخزن فلزی در بسته به گنجایش ۵ لیتر را از هوا پر می‌کنیم. اگر بتوانیم اکسیژن موجود در این هوا را از کیسول خارج کنیم، حجم هوای باقی مانده چند لیتر خواهد بود؟

- الف) ۲ (ب) ۳ (ج) ۴ (د) ۵

۶۵- سه گلوله‌ی فلزی از جنس‌های آلومینیوم، مس و آهن و همچنین یک حلقه در اختیار داریم. در حالت عادی، گلوله‌ها از حلقه عبور می‌کنند. اگر هر سه گلوله را به یک اندازه گرم کنیم، احتمال عبور نکردن کدام گلوله از بقیه بیشتر است؟

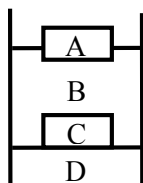
- الف) آلومینیومی (ب) مسی
ج) آهنی (د) تفاوتی ندارند

۶۶- در بین جملات زیر، چند عبارت صحیح است؟

- * گوگرد، طلا و نمک را می‌توان به طور مستقیم از طبیعت به دست آورد.
- * شیشه از ماسه و پلاستیک از نفت خام به دست می‌آید.
- * چوب پنبه از ناخن سخت تر است.
- * استحکام فولاد از پلاستیک بیشتر است.

- الف) ۱ (ب) ۲ (ج) ۳ (د) ۴

۶۷- با توجه به نحوه‌ی قرار گیری، ماده‌ی A، B، C و D به ترتیب از راست به چپ چه موادی هستند؟



میهن مکتب

- الف) چوب پنبه، آلیاژ برنج، آب، جیوه
ب) آلیاژ برنج، آب، چوب پنبه، جیوه
ج) چوب پنبه، جیوه، آلیاژ برنج، آب
د) چوب پنبه، آب، آلیاژ برنج، جیوه

۶۸- کدام گزینه درباره‌ی فولاد زنگ نزن صحیح نمی‌باشد؟

- الف) از آهن، نیکل و کروم به دست می‌آید.
ب) سخت تر و مقاوم تر از آهن است.
ج) ناخالصی‌های موجود بین اتم‌های آهن، باعث بهبود خواص آن شده است.
د) مقدار زیادی از فلزات مختلف به آهن اضافه شده است.

۶۹- برای تهیه ۱۰۰ تن فلز آهن، حدوداً به چند تن سنگ معدن نیاز داریم؟ (هر تن برابر ۱۰۰۰ کیلوگرم است)

- الف) ۲۰۰ (ب) ۵۰۰ (ج) ۱۰۰۰ (د) ۲۰۰۰

۷۰- آهک در کدام یک از موارد زیر کاربرد ندارد؟

- الف) تهیه سیمان (ب) ورودی استخرها و گاوداری‌ها
ج) کوره بلند ذوب آهن (د) تهیه مغز ممداد

۷۱- برای شکل دادن به کدام ماده باید به آن گرما دهیم؟

- الف) گل رس (ب) بتن (ج) شیشه (د) همه‌ی موارد

۷۲- کدام جمله صحیح است؟

- الف) آبشار در جایی ایجاد می‌شود که آب در مسیر خود از سنگ‌های سست و نامقاوم به سنگ‌های مقاوم برسد.
ب) دریاچه‌ها در تامین مواد معدنی برای انسان، اهمیت چندانی ندارند.
ج) در زمین‌های شیب دار، رودخانه مسیر مارپیچ را به خود می‌گیرد.
د) صرف نظر از یخ‌های قطبی، بیشتر آب‌های شیرین در زیر سطح زمین قرار دارند.

زبان انگلیسی

۷۳- علیرضا می‌خواهد با استفاده از تمام حروف زیر، ۲ اسم بسازد. به نظر شما کدام گزینه صحیح است؟

- a) Mana - Nima b) Mina - Amin
c) Mona - Mina d) Amin - Mana



۷۴- یکی از دوستانم در متن زیر بعضی از کلمات را از نظر نوشتاری (حروف کوچک و بزرگ) اشتباه نوشته است. می‌توانید

آن کلمات را برایش پیدا کنید؟
A: Hello, my name is Ali tamkini. B: nice to meet you, Ali.

- a) a , c b) a , d c) b , d d) c , d

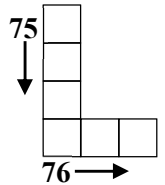
* مریم باید جدول زیر را کامل کند. با انتخاب گزینه مناسب او را راهنمایی کنید.

75. is your name?

- a) Who b) What c) How d) When

76. My birthday is in


- a) Mehr b) Day c) Tir d) Aban



۷۷- شادی به تازگی اسم وسایل تحریرش را به انگلیسی یاد گرفته است. برای اینکه مطمئن شوید او همه را بلد است با توجه

به تصاویر در انتخاب گزینه صحیح یاریش کنید.

- a) pen , book , ruler , eraser
b) eraser , ruler , pen , book
c) ruler , eraser , book , pen
d) pen , ruler , book , eraser



۷۸- محمد برای گرفتن بالن اسباب بازی از معلم ریاضی خود بایستی معمای داخل بالن را حل کند.

به نظر شما جواب معما کدام گزینه است؟

- a) ten b) twelve
c) fifteen d) sixteen

* پریسا برای ارتقاء به مرحله دوم آزمون زبان انگلیسی، بایستی به سوالات این متن پاسخ دهد.

در انتخاب گزینه صحیح او را کمک کنید.

Bita is a student. she's thirteen but her classmate ,Sara ,is fourteen. Sahar and Tina are Bita's friends, but they aren't in her class.

79. Who is Bita's classmate?

- a) Sahar b) Sara c) Tina d) Bita

80. How old is Sara?

- a) 11 b) 12 c) 13 d) 14



شماره	
داوطلبی	
رمز	
کارنامه	

* دانش آموز عزیز!

شماره‌ی داوطلبی و رمز کارنامه‌ی خود را از روی پاسفنامه ببینید و در جدول روبه‌رو یادداشت کنید
شما می‌توانید با داشتن این دو کد، و مراجعه به سامانه‌ی اینترنتی www.natiye.ir نتیجه‌ی آزمون خود

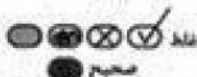
را مشاهده کنید!

آزمون پیشرفت تحصیلی دوره اول آموزش متوسط

کلید آزمون پایه هفتم

Azar93-G7.pdf

« در نگهداری از پاسخنامه دقت کنید تا به هیچ عنوان تا و کثیف نشود.
« در هنگام پاک کردن سعی کنید اثر عمداً کاملاً برطرف نشود.



« اگر پاسخنامه منقول به شما نیست، دستورالعمل جلد را مطالعه نمایید.
« پاسخ صحیح را با عمداً متنی نرم پررنگ مانند نمونه کاملاً ضایع نمایید.

۱	۲۶	۵۱	۷۶
۲	۲۷	۵۲	۷۷
۳	۲۸	۵۳	۷۸
۴	۲۹	۵۴	۷۹
۵	۳۰	۵۵	۸۰
۶	۳۱	۵۶	۸۱
۷	۳۲	۵۷	۸۲
۸	۳۳	۵۸	۸۳
۹	۳۴	۵۹	۸۴
۱۰	۳۵	۶۰	۸۵
۱۱	۳۶	۶۱	۸۶
۱۲	۳۷	۶۲	۸۷
۱۳	۳۸	۶۳	۸۸
۱۴	۳۹	۶۴	۸۹
۱۵	۴۰	۶۵	۹۰
۱۶	۴۱	۶۶	۹۱
۱۷	۴۲	۶۷	۹۲
۱۸	۴۳	۶۸	۹۳
۱۹	۴۴	۶۹	۹۴
۲۰	۴۵	۷۰	۹۵
۲۱	۴۶	۷۱	۹۶
۲۲	۴۷	۷۲	۹۷
۲۳	۴۸	۷۳	۹۸
۲۴	۴۹	۷۴	۹۹
۲۵	۵۰	۷۵	۱۰۰