

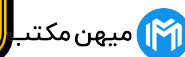
باسمه تعالی  
جمهوری اسلامی ایران  
وزارت آموزش و پرورش  
اداره کل آموزش و پرورش خراسان رضوی

## دفترچه سؤالات آزمون پیشرفت تحصیلی

[دوره اول متوسطه]

مرحله اول سال تحصیلی ۹۸-۱۳۹۷ (۹۷/۹/۲۰)

پایه هفتم (نوبت عصر)



کد دفترچه : ۴

نام و نام خانوادگی : کد داوطلبی :

تعداد سؤال :	۷۵ سؤال	ساعت شروع :	۱۳:۰۰ عصر
مدت پاسخ‌گویی :	۹۰ دقیقه	ساعت پایان :	۱۴:۳۰ عصر

ردیف	عنوان درس	تعداد	از	تا
۱	قرآن	۵	۱	۵
۲	پیام‌هاک آسمان	۷	۶	۱۲
۳	عربی	۸	۱۳	۲۰
۴	ریاضی	۱۵	۲۱	۳۵
۵	فارسی	۱۵	۳۶	۵۰
۶	علوم تجربی	۱۵	۵۱	۶۵
۷	مطالعات اجتماعی	۱۰	۶۶	۷۵

✓ به پاسخ‌های نادرست، نمره منفی تعلق نمی‌گیرد.  
✓ استفاده از ماشین حساب، مجاز نیست.

توجه :

نام درس: قرآن	تعداد سؤال: ۵
---------------	---------------

- ۱- معنای کدام کلمه قرآنی درست است؟  
 (۱) وَّيْلٌ : اما (۲) واحد: تنها (۳) قَدِيرٌ: بخشنده (۴) آيات: نشانه‌ها
- ۲- کدام ترکیب قرآنی، درست ترجمه شده است؟  
 (۱) اللَّيْلِ وَالنَّهَارِ: آسمان و زمین (۲) قَدْ جَاءَكُمْ: قطعاً آوردیم برایشان  
 (۳) لَعَلَّكُمْ تَعْقِلُونَ: تا شما اندیشه کنید (۴) مِلَّةَ آباءِی: دین پدرمان
- ۳- با تدبر در آیه « وَلَا نُضِيعُ أَجْرَ الْمُحْسِنِينَ » خداوند پاداش چه کسانی را از بین نمی‌برد؟  
 (۱) تقوا پیشگان (۲) شکرگزاران (۳) مؤمنان (۴) نیکوکاران
- ۴- کدام گزینه ترجمه آیه زیر را کامل می‌کند؟  
 وَمَا رَبُّكَ بِغَافِلٍ عَمَّا تَعْمَلُونَ . و نیست ... غافل ...
- (۱) پروردگارت - از آنچه انجام می‌دهید. (۲) پروردگارتان - از آنچه عمل می‌کنید.  
 (۳) خدایتان - پس چرا عمل نمی‌کنید. (۴) پروردگارت - چرا انجام می‌دهید.
- ۵- در کدام عبارت قرآنی، حضرت ابراهیم (ع) آموزش خود و پدر و مادرش را از خداوند درخواست می‌کند؟  
 (۱) رَبِّ اجْعَلْ لِي مَقِيمَ الصَّلَاةِ (۲) رَبَّنَا اغْفِرْ لِي وَلِوَالِدَيَّ (۳) رَبَّنَا وَتَقَبَّلْ دُعَاءِ (۴) إِنَّ رَبِّي لَسَمِيعُ الدُّعَاءِ

نام درس: پیامهای آسمان	تعداد سؤال: ۷
------------------------	---------------

- ۶- علی از انجام کار ناشایست حتی به صورت پنهانی دوری می‌کند. به نظر شما او به کدام آیه قرآن کریم عمل نموده است؟  
 (۱) وَهُوَ أَرْحَمُ الرَّاحِمِينَ (۲) ادعوني أستجب لكم  
 (۳) وَمَا أَرْسَلْنَاكَ إِلَّا رَحْمَةً لِّلْعَالَمِينَ (۴) وَهُوَ مَعَكُمْ أَيْنَ مَا كُنْتُمْ
- ۷- از آیه «إِنَّا كُنَّا نَعْبُدُ وَإِنَّا نَسْتَعِينُ» چه پیامی دریافت می‌کنید؟  
 (۱) همه انسان‌ها برای رفع مشکلات به یکدیگر نیاز دارند. (۲) با صبر و تقوی، می‌توان از یاری خداوند بهره‌مند شد.  
 (۳) فقط از خداوند می‌بایست طلب یاری کرد. (۴) انجام واجبات، نوعی یاری دادن به خدا است.
- ۸- کدام گزینه از نمونه‌های صدقه محسوب نمی‌شود؟  
 (۱) علی با پدرش برای نیازمندان، آذوقه و غذا می‌برد. (۲) محمد به خواهرش قرآن می‌آموزد.  
 (۳) مریم با خانواده برای اقامه نماز به مسجد می‌رود. (۴) زینب در نظافت منزل به مادرش کمک می‌کند.
- ۹- آیا با جمله « وضعیت انسان‌ها هنگام رفتن از این دنیا با یکدیگر متفاوت است. » موافقت می‌کنید؟ چرا؟  
 (۱) خیر - مرگ برای همه انسان‌ها به معنای پایان زندگی است. (۲) بله - رفتار و اعمال انسان تعیین کننده حالت مرگ است.  
 (۳) خیر - مرگ برای انسان‌ها در هر شرایطی وحشتناک است. (۴) بله - زمان و مکان مرگ مؤمنان و گناهکاران، یکسان است.
- ۱۰- کدام یک از رفتارهای زیر، نشان‌دهنده بزرگواری و محبت پیامبر اکرم (ص) است؟  
 (۱) سفارش پیامبر (ص) به چوپان یهودی برای بازگرداندن گوسفندان به صاحبان خود  
 (۲) عیادت از مرد نادانی که پیامبر (ص) را مورد آزار و اذیت قرار می‌داد  
 (۳) انجام کارهای شخصی از جمله آسیاب کردن گندم و جو  
 (۴) درخواست یاری از حضرت علی (ع) در شب هجرت از مکه به مدینه
- ۱۱- آیه زیر در ستایش کدام ویژگی حضرت علی (ع) نازل شد؟

وَمِنَ النَّاسِ مَن يَشْرِي نَفْسَهُ ابْتِغَاءَ مَرْضَاتِ اللَّهِ وَاللَّهُ رَئُوفٌ بِالْعِبَادِ .  
 و از مردم کسانی جان خود را می‌فروشند تا خشنودی خدا را به دست آورند، و خدا نسبت به بندگانش مهربان است.

- (۱) جنگجویی (۲) ظلم‌ستیزی (۳) عدالت‌طلبی (۴) فداکاری

- ۱۲- بهترین حالت استجاب دعا و دلیل آن در کدام گزینه به درستی آمده است؟  
 (۱) شکر زبانی - ساده‌ترین راه برای تشکر از خداوند است. (۲) نماز - در این حال، انسان توجه بیشتری به خداوند دارد.  
 (۳) جهاد در راه خدا - زیرا یاری‌دادن دین خداست. (۴) تقوی - زیرا در هر موقعیتی از گناه دوری می‌کنیم.

نام درس: عربی	تعداد سؤال: ۸
---------------	---------------

میهن مکتب

۱۳- کلمه‌ی مشخص شده در کدام گزینه درست ترجمه شده است؟

- (۱) هَوْلَاءِ الظَّالِمَاتِ، نَاجِحَاتٌ. «دوست»  
 (۲) رَبِّ كَلَامٍ كَالْحَسَامِ «شمشیر»  
 (۳) مُجَالَسَةُ الْعُلَمَاءِ عِبَادَةٌ. «دانا»  
 (۴) التَّوَرَانُ إِلَى الْيَمِينِ مَمْنُوعٌ. «چپ»

۱۴- ترجمه‌ی صحیح جمله‌ی «أَدَبُ الْمَرْءِ خَيْرٌ مِنْ ذَهَبِهِ» کدام است؟

- (۱) ادب انسان بهتر از طلای او است.  
 (۲) ارزش مرد به ادب او است.  
 (۳) خیر فرزند، در ادب او است.  
 (۴) طلای انسان بهتر از ادب او است.

۱۵- ترجمه‌ی کدام جمله صحیح است؟

- (۱) حُسْنُ الْعَهْدِ مِنْ عِلَائِمِ الْإِيمَانِ. از نشانه‌های ایمان خوش اخلاقی است.  
 (۲) حَقَائِبُ الْمُسَافِرِينَ فِي فُنْدُقٍ قَرِيبٍ. کیف‌های مسافران در هتل دوری است.  
 (۳) الْوَلَدُ الصَّالِحُ، فَخْرٌ لِلْوَالِدَيْنِ. پسر صالح مایه‌ی افتخار پدر است.  
 (۴) الْجُهْلُ مَوْتُ الْأَحْيَاءِ. نادانی مرگ زندگان است.

۱۶- متضاد کدام گزینه نادرست است؟

- (۱) صَغِيرٌ ≠ كَبِيرٌ (۲) عِدَاوَةٌ ≠ صَدَاقَةٌ (۳) قَلِيلٌ ≠ سَوَاءٌ (۴) وَحْدَةٌ ≠ جَمَاعَةٌ

۱۷- بیت « مشورت ادراک و هوشیاری دهد / عقل‌ها را عقل‌ها یاری دهد » با کدام حکمت زیر ارتباط بیشتری دارد؟

- (۱) رَأْيَانٍ خَيْرٌ مِنْ رَأْيٍ وَاحِدٍ. (۲) رَبِّ كَلَامٍ جَوَابُهُ السُّكُوتُ. (۳) خَيْرُ النَّاسِ أَنْفَعُ النَّاسِ. (۴) آفَةُ الْعِلْمِ النَّسْيَانُ.

۱۸- کدام کلمات به ترتیب، جمع مؤنث سالم و جمع مکسر است؟

- (۱) طَبِيبَاتٍ - عَنَبٍ (۲) صَابِرَاتٍ - قِصَصٍ (۳) عَبْرٌ - مَسْرُورُونَ (۴) مَدِينَةٌ - مَعَلِّمِينَ

۱۹- با توجه به تصاویر کدام جمله درست است؟

- (۱) هَاتَانِ الْوَالِدَانِ، فِي الصَّفِّ. (۲) هَذَا الْبَيْتُ، نَظِيفَةٌ.

- (۳) تِلْكَ، كُرْسِيٌّ خَشْبِيٌّ. (۴) هَذِهِ الْوَرْدَةُ، جَمِيلَةٌ.



۲۰- پرسش مناسب برای جمله‌ی « هِيَ مُعَلِّمَةٌ الْمَدْرَسَةِ. » چیست؟

- (۱) هَلْ فِي الْمَدْرَسَةِ، مُعَلِّمَةٌ؟ (۲) مَنْ أَنْتَ؟ (۳) مَنْ هِيَ؟ (۴) لِمَنْ هَذِهِ الْمَدْرَسَةُ؟

نام درس: ریاضی	تعداد سؤال: ۱۵
----------------	----------------

۲۱- حاصل عبارت  $(+30) + (-50)$  برابر است با:

- (۱) -۲۰ (۲) +۲۰ (۳) +۸۰ (۴) -۸۰

۲۲- کدام مقایسه درست است؟

- (۱)  $-10 > 0$  (۲)  $-17 < +7$  (۳)  $-10 < 1$  (۴)  $-10 = 10$

۲۳- با توجه به الگوی مقابل جمله هفتم آن کدام است؟ ... و ۱۳ و ۹ و ۵

- (۱) ۲۵ (۲) ۲۹ (۳) ۳۳ (۴) ۳۷

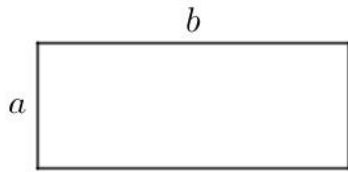
۲۴- دمای هوای اهواز، ۱۰ درجه از دمای هوای مشهد گرم‌تر است. اگر دمای هوای مشهد ۴- درجه باشد، دمای هوای اهواز برابر است با:

- (۱) +۱۰ (۲) +۱۴ (۳) +۴ (۴) +۶

۲۵- حاصل عبارت  $(-9) + 4 \div (-10)$  برابر است با:

- (۱)  $-\frac{10}{13}$  (۲)  $\frac{10}{13}$  (۳)  $+2$  (۴)  $-2$

۲۶- کدام گزینه محیط مستطیل مقابل را به درستی نشان می دهد؟



- (۱)  $a + b$   
 (۲)  $2a + b$   
 (۳)  $2(a + b)$   
 (۴)  $a + 2b$

۲۷- علی هر روز  $n$  صفحه تمرین انجام می دهد؛ کدام گزینه عبارت جبری «تعداد صفحاتی که علی در یک هفته تمرین انجام می دهد» را درست نشان می دهد؟

- (۱)  $7n$  (۲)  $7 + n$  (۳)  $6n + 1$  (۴)  $7n + 7$

۲۸- کدام گزینه جمله «قرینه ی قرینه ی هر عدد برابر خود عدد است» را درست نشان می دهد؟

- (۱)  $7 - (-7) = 0$  (۲)  $-7 + 7 = 0$   
 (۳)  $- (+7) = +7$  (۴)  $-(-(+7)) = +7$

۲۹- عبارت جبری جمله مقابل، کدام گزینه است؟ «پنج تا بیشتر از ۳ برابر یک عدد»

- (۱)  $5x + 3$  (۲)  $x + 3 \times 5$  (۳)  $3x + 5$  (۴)  $x + 5 + 3$

۳۰- در عبارت  $-6 = \square + 10 + \square$  به جای  $\square$  کدام گزینه را می توان قرار داد؟

- (۱)  $-4$  (۲)  $+4$  (۳)  $-6$  (۴)  $-16$

۳۱- با انگشتان یک دست، به چند صورت می توان عدد ۲ را نشان داد؟



- (۱) ۵  
 (۲) ۱۰  
 (۳) ۱۲  
 (۴) ۱۵

۳۲- ساده شده عبارت  $3(6x + 1) - 7(2x + 1)$  برابر است با:

- (۱)  $4x + 10$  (۲)  $4x - 4$  (۳)  $11x - 4$  (۴)  $11x + 10$


۳۳- مقدار عددی عبارت  $3x + 5y - 1$  به ازای  $x = 1$  و  $y = -1$  برابر است با:

- (۱)  $-3$  (۲)  $+3$  (۳)  $+2$  (۴)  $-2$

۳۴- حاصل جمع بزرگ ترین و کوچک ترین عدد از عددهای مقابل، برابر کدام گزینه است؟  $(-11)$  و  $10$  و  $-7$  و  $0$  و  $-3$

- (۱) ۳ (۲) ۴ (۳) ۷ (۴)  $-10$

۳۵- چه کسری از شکل مقابل رنگی است؟



- (۱)  $\frac{1}{2}$   
 (۲)  $\frac{3}{5}$   
 (۳)  $\frac{8}{15}$   
 (۴)  $\frac{7}{15}$

نام درس : <b>فارسی</b>	تعداد سؤال: <b>۱۵</b>
------------------------	-----------------------

**۳۶- معنای کدام گزینه درست است؟**

- (۱) فتاد از پای، کرد از عجز فریاد (ناتوانی)  
 (۲) نیروی نوجوانی را با تأمل همراه کنید (آرزو)  
 (۳) آسمان مثل یک تیسیم شد (خنده بلند)  
 (۴) صلاح و پاکدامنی از ویژگی‌های اوست (دوستی)

**۳۷- معنای کدام واژه در درون کمانک نادرست است؟**

- (۱) روز و شب زائر حرم باشیم (زیارت کننده)  
 (۲) کوته ز درت درازدستی (ستمگری)  
 (۳) زنگ تفریح را که زجره زد (سیرسیرک)  
 (۴) شدش گیتی به پیش چشم تاریک (میدان)

**۳۸- در کدام گزینه نادرستی املایی وجود دارد؟ (تشدید جزو غلط املایی به‌شمار نمی‌رود)**

- (۱) دعای مادر در حق من مستجاب شد و مرا بدین جای رسانید.  
 (۲) وجود این همه جوان، مایه افتخار برای ماست.  
 (۳) از اینان یکی سر بر نمی‌دارد که دوگانه‌ای بگذارد.  
 (۴) کژال یکسره جیغ می‌زد و کمک می‌خواست.

**۳۹- در کدام گزینه، غلط املایی دیده نمی‌شود؟ (تشدید جزو غلط املایی به‌شمار نمی‌رود)**

- (۱) محارث‌های دلنشین - جلوه‌های گوناگون - علایق ما  
 (۲) لحظه‌های زندگی - راز آفرینش - جویبار باسفا  
 (۳) رابطه بیهوده - مطالب آموختنی - شوکوفه‌های محبت  
 (۴) شکوه الهی - دوره نوجوانی - شبیه به رؤیا

**۴۰- کدام اثر از قیصر امین پور است؟**

- (۱) در کوچه آفتاب  
 (۲) به هوای گل سرخ  
 (۳) اسلام‌شناسی  
 (۴) مثنوی معنوی

**۴۱- در کدام گزینه، تمامی واژه‌ها هم‌خانواده نیستند؟**

- (۱) معلم، علم، عالم  
 (۲) منطقه، مناطق، نقاط  
 (۳) قصد، قاصد، مقصود  
 (۴) منتظر، انتظار، منظور

**۴۲- اجزای جمله در کدام گزینه، با اجزای جمله زیرهم‌خوانی دارد؟**

- «یک هیأت جهانی به ایران آمد.»  
 (۱) ناگهان لنگه گالش کژال افتاد.  
 (۲) مطالب آموختنی، ما را به سوی خود می‌خوانند.  
 (۳) یک دست بر دست مادر نهادم.  
 (۴) زنگ تفریح را آقای ناظم زد.

**۴۳- کدام گزینه، زبانی است؟**

- (۱) دشت، یکپارچه صدا شده بود.  
 (۲) تن کژال، مثل علفی در باد می‌لرزید.  
 (۳) غنچه هم گفت گرچه دل تنگم  
 (۴) ایمان خود را حفظ کنید.

**۴۴- در کدام گزینه، آرایه ادبی تشخیص وجود دارد؟**

- (۱) کتاب پر رمزوراز طبیعت، سرشار از درس‌ها و اندرزهاست.  
 (۲) کودکان پر نشاط گل‌بوته‌ها در گوش نسیم، آمین می‌گفتند.  
 (۳) این ملت باید به وجود این همه جوان، بر خود ببالد.  
 (۴) در قلب کوچکم، رازهای بزرگی نهفته است.

**۴۵- اگر نیروی جوانی را با ..... همراه سازیم به شکوفایی خواهیم رسید.**

- (۱) تمیزی و پاکیزگی  
 (۲) چالاکي و باهوشي  
 (۳) آراستگی و پاکدلی  
 (۴) تفکر و بصیرت

**۴۶- اگر بیت زیر را به نثر روان برگردانیم، کدام واژه در پایان جمله می‌آید؟**

- «پرید از شاخکی بر شاخساری / گذشت از بامکی بر جوکناری»  
 (۱) شاخکی  
 (۲) جوکناری  
 (۳) گذشت  
 (۴) بامکی

**۴۷- کدام بیت به یکی از مفهومی‌های درس «قلب کوچکم را به چه کسی هدیه بدهم؟» اشاره ندارد؟**

- (۱) از صدای سخن عشق ندیدم خوش‌تر  
 (۲) از محبت خارا گل می‌شود  
 (۳) ای همه هستی ز تو پیدا شده  
 (۴) زندگی، گرمی دل‌های به‌هم‌پیوسته است

**۴۸- همه گزینه‌ها با مفهوم «تلاش و کوشش و حرکت» تناسب دارند، به‌جز...**

- (۱) ما زنده به آنیم که آرام نگیریم / موجیم که آسودگی ما عدم ماست  
 (۲) قناعت کن ای نفس بر اندکی / که سلطان و درویش بینی یکی  
 (۳) مثل یک شاخه گل جوانه بزن / مثل یک چشمه‌سار جاری شو  
 (۴) آبی که بر آسود زمینش بخورد زود / دریا شود آن رود که پیوسته روان است

۴۹- معنی درست بیت زیر در کدام گزینه آمده است؟

«تو را پرواز بس زود است و دشوار / ز نوکاران که خواهد کار بسیار»

- (۱) به این دلیل پرواز برای تو دشوار است که خوب نمی‌توانی تمرین کنی و کار بسیار، انجام دهی.
- (۲) پرواز برای تو بسیار زود و مشکل است و از افراد بی‌تجربه و تازه‌کار، کسی انتظار کار زیاد ندارد.
- (۳) افراد بی‌تجربه، جرأت کارهای بزرگ را ندارند، به این سبب نمی‌توانی پرواز کنی.
- (۴) هنوز پرواز برای کسی که جاهل است، زود است؛ نباید پرواز کنی.

۵۰- در کدام گزینه، شاعر یا نویسنده از ادبیات استفاده نکرده است؟

- (۱) به خانه که رسیدم، گز و چای گذاشتم جلوم و جماعتی را دور خودم جمع کردم.
- (۲) قلب، مهمان‌خانه نیست که آدم‌ها بیایند دو سه ساعت یا دو سه روز توی آن بمانند.
- (۳) احساس می‌کردم هم اکنون چشمه‌های معرفت از درون من سر باز خواهند کرد.
- (۴) آن دست که زیر سر مادرم بود، خون اندر آن خشک شده بود.

نام درس :	<b>علوم تجربی</b>	میهن مکتب	تعداد سؤال: ۱۵
-----------	-------------------	-----------	----------------

۵۱- کدام ارتباط بین علم و فناوری درست است؟

- (۱) فناوری نتیجه استفاده از علم است .
- (۲) علم نتیجه استفاده از فناوری است .
- (۳) فناوری بدون علم نیز قابل دسترسی است .
- (۴) علم و فناوری هر کدام نتیجه دیگری هستند.

۵۲- یک کلید فلزی ۵۰ گرمی را درون استوانه مدرجی که ۶۰ میلی‌لیتر آب دارد، به آرامی می‌اندازیم، سطح آب روی ۸۰ میلی‌لیتر قرار می‌گیرد. چگالی این کلید فلزی برابر است با ..... گرم بر سانتی‌متر مکعب.

- (۱) ۲۵
- (۲) ۲/۵
- (۳) ۰/۲۵
- (۴) ۲/۰۵

۵۳- می‌دانیم که میزان انبساط مس از آهن بیشتر است ، اگر دو قطعه فلز مس و آهن هم‌حجم و هم‌دما (۱۰۰ °C) را سرد کنیم و آن‌ها را به دمای (۱۰ °C) برسانیم، کدام عبارت درباره آن‌ها درست است ؟

- (۱) مس بیشتر منقبض می‌شود.
- (۲) آهن بیشتر منقبض می‌شود.
- (۳) هر دو به یک اندازه منقبض می‌شود.
- (۴) هر دو به یک اندازه منبسط می‌شود.

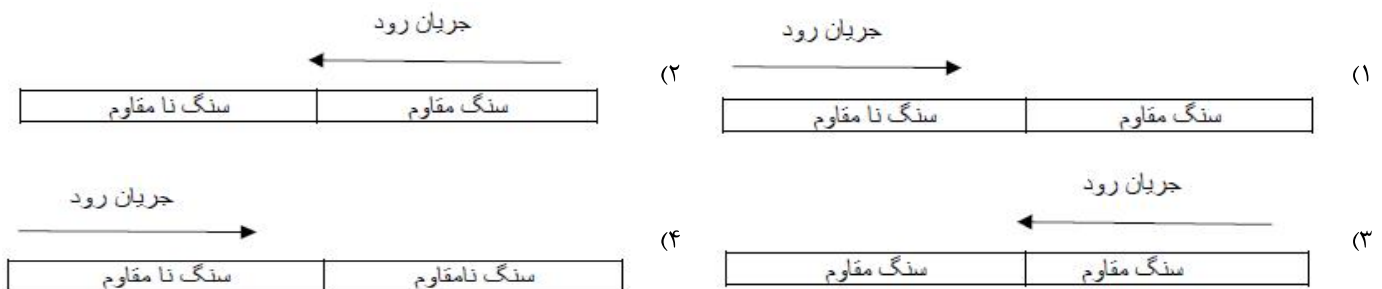
۵۴- انجام آزمایش برای ..... است.

- (۱) کسب مهارت برای استفاده از ابزارآلات مختلف آزمایشگاهی
- (۲) کسب مهارت برای یادداشت‌برداری و ثبت اطلاعات
- (۳) اثبات درستی یا نادرستی فرضیه یا فرضیه‌های ارائه شده
- (۴) کسب مهارت در رسم نمودارهای علمی

۵۵- هر مولکول عنصر گوگرد، چند اتم دارد؟

- (۱) ۲
- (۲) ۴
- (۳) ۶
- (۴) ۸

۵۶- در کدام حالت زیر، امکان تشکیل آبشار وجود دارد ؟



۵۷- می‌دانیم امروزه برای ساختن پل‌ها و تونل‌ها از بتن استفاده می‌کنند. بتن مخلوطی از سیمان ، ماسه و آب است . برای اینکه بتن ساخته شده ، استحکام بیشتری داشته باشد ، استفاده از کدام مورد مناسب‌تر است ؟

- (۱) آهک بیشتر
- (۲) ماسه بیشتر
- (۳) رس بیشتر
- (۴) میل‌گرد آهنی بیشتر

۵۸- جزر مد دریاها، بیشتر تحت تأثیر کدام یک از عوامل زیر ایجاد می‌شود؟

- (۱) آتش‌فشان‌های دریایی  
(۲) اختلاف دما  
(۳) نیروی گرانش ماه و خورشید  
(۴) زمین‌لرزه

۵۹- اندازه بین دو درجه متوالی در یک ترازو ۵ گرم است. کدام یک از اندازه‌گیری‌های زیر برای این ترازو مناسب است؟

- (۱) ۳۴۰ گرم  
(۲) ۳۴۱ گرم  
(۳) ۳۴۳ گرم  
(۴) ۳۴۴ گرم

۶۰- برای محافظت از منابع طبیعی راه‌های گوناگونی وجود دارد که یکی از آن‌ها مصرف دوباره است. کدام یک از عبارات‌های زیر به مصرف دوباره اشاره می‌کند؟

- (۱) استفاده از ظرف‌های شیشه‌ای ترشی برای نگهداری از حبوبات  
(۲) استفاده از کیسه‌ی پارچه‌ای برای خرید میوه  
(۳) ذوب کردن ظرف فلزی خراب و تبدیل آن‌ها به شمش  
(۴) کمتر استفاده کردن از ظروف یک‌بارمصرف

۶۱- از آب‌آهک به‌عنوان ضد عفونی‌کننده‌ی در ورودی استخرها و گاوداری‌ها و... استفاده می‌شود، اگر مقداری آب‌آهک را درون یک بشر ریخته و با کاغذ pH قدرت اسیدی یا بازی آن را مشخص کنیم، کدام گزینه صحیح است؟

- (۱) pH = 0 آب‌آهک  
(۲) pH = 7 آب‌آهک  
(۳) pH = 11 آب‌آهک  
(۴) pH = 4 آب‌آهک

۶۲- خاک رس یکی از مواد طبیعی که به فراوانی یافت می‌شود و از آن برای تهیه ظروف سفالی استفاده می‌شود. کدام یک از مراحل زیر مربوط به تهیه این ظروف است؟

- (۱) تهیه گل کوزه‌گری - پختن - شکل دادن به خمیر - لعاب دادن  
(۲) تهیه گل کوزه‌گری - لعاب دادن - شکل دادن به خمیر - پختن  
(۳) تهیه گل کوزه‌گری - شکل دادن به خمیر - پختن - لعاب دادن  
(۴) تهیه گل کوزه‌گری - پختن - لعاب دادن - شکل دادن به خمیر

۶۳- اگر قطره‌های باران در مسیر پایین آمدن به سطح زمین از توده‌های هوای سرد، عبور کند به ..... تبدیل می‌شود.

- (۱) باران  
(۲) تگرگ  
(۳) برف  
(۴) مه

۶۴- برای اندازه‌گیری حجم مواد کدام یک از کمیت‌ها صحیح نیست؟

- (۱) مترمکعب  
(۲) مترمربع  
(۳) سانتی‌متر مکعب  
(۴) لیتر

۶۵- در واکنش مقابل به جای الف وب (به ترتیب از راست به چپ) چه موادی قرار می‌گیرد؟

- ب + الف → کربن + اکسید آهن  
(۱) کربن دی‌اکسید و آهن  
(۲) کربن مونواکسید و آهن  
(۳) کربن دی‌اکسید و آهن  
(۴) کربن مونواکسید و آهن

نام درس:	مطالعات اجتماعی	میهن مکتب	تعداد سؤال:	۱۰
----------	-----------------	-----------	-------------	----

۶۶- انسان‌ها از چه زمانی دارای حقوق طبیعی می‌شوند؟

- (۱) از سن بلوغ شرعی  
(۲) از ابتدای خلقت  
(۳) بعد از ازدواج  
(۴) بعد از رفتن به مدرسه

۶۷- گذاشتن (قرار دادن) خود به جای فرد حادثه‌دیده و درک احساس و شرایط او، چه نامیده می‌شود؟

- (۱) همیاری  
(۲) احساس  
(۳) هم‌زبانی  
(۴) همدلی

۶۸- «آموزش» جزء کدام بخش از مشاغل و فعالیت‌های اقتصادی است؟

- (۱) کشاورزی  
(۲) خدمات  
(۳) تجهیزات  
(۴) صنعت

۶۹- «تصویری افقی از سطح زمین است که به نسبت مورد نیاز کوچک شده است» این جمله در تعریف کدام یک از گزینه‌های زیر است؟

- (۱) کره جغرافیایی  
(۲) نقشه  
(۳) مقیاس  
(۴) اطلس

۷۰- کدام قلّه‌ها در رشته‌کوه زاگرس قرار گرفته‌اند؟

- (۱) سبلان، سه‌پند  
(۲) دماوند، علم‌کوه  
(۳) دنا، زردکوه  
(۴) آسترانکوه، نفتان

## ۷۱- در رابطه با مصرف، مسئولیت مصرف کننده چیست؟

- (۱) مصرف درست  
(۲) مصرف کم  
(۳) مصرف گرایی  
(۴) مصرف زیاد جهت کمک به تولید ملی

## ۷۲- کدام گزینه موجب پایداری شدن حقوق دیگران می شود؟

- (۱) جلوگیری از هرج و مرج  
(۲) توقف رانندگان پشت چراغ قرمز  
(۳) ایجاد نظم و امنیت  
(۴) رعایت نکردن قوانین و مقررات

## ۷۳- کدام گزینه از وظایف شورای نگهبان نیست؟

- (۱) نظارت بر انتخابات کشور  
(۲) انتخاب رئیس مجلس شورای اسلامی  
(۳) تأیید صلاحیت نامزدهای انتخابات  
(۴) تطبیق مصوبات مجلس با قانون اساسی و اصول و احکام دین اسلام

## ۷۴- کدام گزینه در مورد بیمه «درست تر» است؟

- (۱) بیمه یک قرارداد بین بیمه شونده و بیمه گذار است.  
(۲) همه مؤسسات بیمه زیر نظر بیمه ایران فعالیت می کنند.  
(۳) مؤسسه بیمه برای جبران زیانهای مالی و جانی به وجود آمده است.  
(۴) مؤسسه بیمه برای جبران زیانهای مالی در تصادفات به وجود آمده است.

## ۷۵- کدام گزینه در رابطه با مسئولیت درست نمی باشد؟

- (۱) هیچ فردی نیست که مسئولیتی نداشته باشد.  
(۲) بعضی از افراد مسئولیت های بیشتر یا مهم تری دارند.  
(۳) افراد در نقش های مختلف، مسئولیت های مختلفی دارند.  
(۴) مسئولیت چیزهایی است که یک انسان به دلیل مقام انسانی اش، شایستگی داشتن آن ها را دارد.



عنوان دفترچه	شماره سؤال	کد و نام درس	موضوع سؤال	گزینه صحیح	اصلاح کلید/ توضیح
پایه هفتم (نوبت عصر)	1	۲۲۵۰۱ - قرآن	ترجمه کلمه قرآنی	4	
پایه هفتم (نوبت عصر)	2	۲۲۵۰۱ - قرآن	ترجمه ترکیب قرآنی	3	
پایه هفتم (نوبت عصر)	3	۲۲۵۰۱ - قرآن	تدبیر در آیات قرآن	4	
پایه هفتم (نوبت عصر)	4	۲۲۵۰۱ - قرآن	ترجمه عبارت قرآنی	1	
پایه هفتم (نوبت عصر)	5	۲۲۵۰۱ - قرآن	تدبیر در آیه	2	
پایه هفتم (نوبت عصر)	6	۲۲۵۰۲ - پیامهای آسمان	مفهوم آیه	4	
پایه هفتم (نوبت عصر)	7	۲۲۵۰۲ - پیامهای آسمان	مفهوم آیه	3	
پایه هفتم (نوبت عصر)	8	۲۲۵۰۲ - پیامهای آسمان	مفهوم صدقه	3	
پایه هفتم (نوبت عصر)	9	۲۲۵۰۲ - پیامهای آسمان	حالت انسانها هنگام مرگ	2	
پایه هفتم (نوبت عصر)	10	۲۲۵۰۲ - پیامهای آسمان	ویژگی پیامبر (ص)	2	
پایه هفتم (نوبت عصر)	11	۲۲۵۰۲ - پیامهای آسمان	ویژگی حضرت علی (ع)	4	
پایه هفتم (نوبت عصر)	12	۲۲۵۰۲ - پیامهای آسمان	استجابات دعا در نماز	2	
پایه هفتم (نوبت عصر)	13	۲۲۵۰۷ - عربی	درک و فهم	2	
پایه هفتم (نوبت عصر)	14	۲۲۵۰۷ - عربی	ترجمه عبارت	1	
پایه هفتم (نوبت عصر)	15	۲۲۵۰۷ - عربی	ترجمه	4	
پایه هفتم (نوبت عصر)	16	۲۲۵۰۷ - عربی	واژه شناسی	3	
پایه هفتم (نوبت عصر)	17	۲۲۵۰۷ - عربی	درک و فهم	1	
پایه هفتم (نوبت عصر)	18	۲۲۵۰۷ - عربی	فوائد	2	
پایه هفتم (نوبت عصر)	19	۲۲۵۰۷ - عربی	درک و فهم	4	
پایه هفتم (نوبت عصر)	20	۲۲۵۰۷ - عربی	مکالمه	3	
پایه هفتم (نوبت عصر)	21	۲۲۵۱۰ - ریاضی	جمع عددهای صحیح	1	
پایه هفتم (نوبت عصر)	22	۲۲۵۱۰ - ریاضی	مقایسه اعداد علامتدار	1	
پایه هفتم (نوبت عصر)	23	۲۲۵۱۰ - ریاضی	الگویابی عددی	2	
پایه هفتم (نوبت عصر)	24	۲۲۵۱۰ - ریاضی	حل مسئله اعداد صحیح	4	
پایه هفتم (نوبت عصر)	25	۲۲۵۱۰ - ریاضی	اعمال روی اعداد صحیح	3	
پایه هفتم (نوبت عصر)	26	۲۲۵۱۰ - ریاضی	ساده کردن عبارت های جبری	3	
پایه هفتم (نوبت عصر)	27	۲۲۵۱۰ - ریاضی	عبارت های جبری	1	
پایه هفتم (نوبت عصر)	28	۲۲۵۱۰ - ریاضی	بند کردن فرجه یک عدد صحیح	4	
پایه هفتم (نوبت عصر)	29	۲۲۵۱۰ - ریاضی	عبارت های کلامی	3	
پایه هفتم (نوبت عصر)	30	۲۲۵۱۰ - ریاضی	جمع عدد های صحیح	4	
پایه هفتم (نوبت عصر)	31	۲۲۵۱۰ - ریاضی	الگو سازی	2	
پایه هفتم (نوبت عصر)	32	۲۲۵۱۰ - ریاضی	ساده کردن عبارت های جبری	2	
پایه هفتم (نوبت عصر)	33	۲۲۵۱۰ - ریاضی	مقدار عددی عبارت های جبری	1	
پایه هفتم (نوبت عصر)	34	۲۲۵۱۰ - ریاضی	جمع اعداد صحیح	2	
پایه هفتم (نوبت عصر)	35	۲۲۵۱۰ - ریاضی	الگویابی	3	
پایه هفتم (نوبت عصر)	36	۲۲۵۰۴ - فارسی	معنای واژگان	1	
پایه هفتم (نوبت عصر)	37	۲۲۵۰۴ - فارسی	معنای واژگان	4	
پایه هفتم (نوبت عصر)	38	۲۲۵۰۴ - فارسی	املاي واژگان	3	
پایه هفتم (نوبت عصر)	39	۲۲۵۰۴ - فارسی	املاي واژگان	3	
پایه هفتم (نوبت عصر)	40	۲۲۵۰۴ - فارسی	تاریخ ادبیات	1	
پایه هفتم (نوبت عصر)	41	۲۲۵۰۴ - فارسی	دستور زبان	2	
پایه هفتم (نوبت عصر)	42	۲۲۵۰۴ - فارسی	دستور زبان	3	
پایه هفتم (نوبت عصر)	43	۲۲۵۰۴ - فارسی	دستور زبان	4	
پایه هفتم (نوبت عصر)	44	۲۲۵۰۴ - فارسی	آرایه‌های ادبی	2	
پایه هفتم (نوبت عصر)	45	۲۲۵۰۴ - فارسی	درک و دریافت متن	4	
پایه هفتم (نوبت عصر)	46	۲۲۵۰۴ - فارسی	درک و دریافت متن	3	
پایه هفتم (نوبت عصر)	47	۲۲۵۰۴ - فارسی	درک و دریافت متن	3	
پایه هفتم (نوبت عصر)	48	۲۲۵۰۴ - فارسی	درک و دریافت متن	2	

	2	درک و دریافت متن	۲۳۵۰۴ - فارسی	49	پایه هفتم (نوبت عصر)
	1	درک و دریافت متن	۲۳۵۰۴ - فارسی	50	پایه هفتم (نوبت عصر)
	1	شناخت فناوری	۲۳۵۰۹ - علوم تجربی	51	پایه هفتم (نوبت عصر)
	2	چگالی	۲۳۵۰۹ - علوم تجربی	52	پایه هفتم (نوبت عصر)
	1	افزایش طولی فلزات	۲۳۵۰۹ - علوم تجربی	53	پایه هفتم (نوبت عصر)
	3	آزمایش	۲۳۵۰۹ - علوم تجربی	54	پایه هفتم (نوبت عصر)
	4	عناصر مولکولی	۲۳۵۰۹ - علوم تجربی	55	پایه هفتم (نوبت عصر)
	2	تشکیل آبشار	۲۳۵۰۹ - علوم تجربی	56	پایه هفتم (نوبت عصر)
	4	ساخت بتن	۲۳۵۰۹ - علوم تجربی	57	پایه هفتم (نوبت عصر)
	3	جذر ومد	۲۳۵۰۹ - علوم تجربی	58	پایه هفتم (نوبت عصر)
	1	دقت اندازه گیری	۲۳۵۰۹ - علوم تجربی	59	پایه هفتم (نوبت عصر)
	1	محافظة از منابع طبیعی	۲۳۵۰۹ - علوم تجربی	60	پایه هفتم (نوبت عصر)
	3	ویژگی های آب آهک	۲۳۵۰۹ - علوم تجربی	61	پایه هفتم (نوبت عصر)
	3	به دنبال سر پناهی امیر	۲۳۵۰۹ - علوم تجربی	62	پایه هفتم (نوبت عصر)
	2	تشکیل باران	۲۳۵۰۹ - علوم تجربی	63	پایه هفتم (نوبت عصر)
	2	اندازه گیری	۲۳۵۰۹ - علوم تجربی	64	پایه هفتم (نوبت عصر)
	4	استخراج آهن	۲۳۵۰۹ - علوم تجربی	65	پایه هفتم (نوبت عصر)
	2	حقوق طبیعی	۲۳۵۱۲ - مطالعات اجتماعی	66	پایه هفتم (نوبت عصر)
	4	اهمیت همدلی	۲۳۵۱۲ - مطالعات اجتماعی	67	پایه هفتم (نوبت عصر)
	1	شناخت فعالیتهای اقتصادی	۲۳۵۱۲ - مطالعات اجتماعی	68	پایه هفتم (نوبت عصر)
	2	شناخت وسایل مطالعه جغرافیا	۲۳۵۱۲ - مطالعات اجتماعی	69	پایه هفتم (نوبت عصر)
	3	شناخت قله های راگرس	۲۳۵۱۲ - مطالعات اجتماعی	70	پایه هفتم (نوبت عصر)
	1	مسئولیت مصرف کننده	۲۳۵۱۲ - مطالعات اجتماعی	71	پایه هفتم (نوبت عصر)
	4	رعایت حقوق دیگران	۲۳۵۱۲ - مطالعات اجتماعی	72	پایه هفتم (نوبت عصر)
	2	آشنایی با وظایف شورای نگهبان	۲۳۵۱۲ - مطالعات اجتماعی	73	پایه هفتم (نوبت عصر)
	3	اهمیت بیمه	۲۳۵۱۲ - مطالعات اجتماعی	74	پایه هفتم (نوبت عصر)
	4	مسئولیت و حقوق مغایر	۲۳۵۱۲ - مطالعات اجتماعی	75	پایه هفتم (نوبت عصر)