
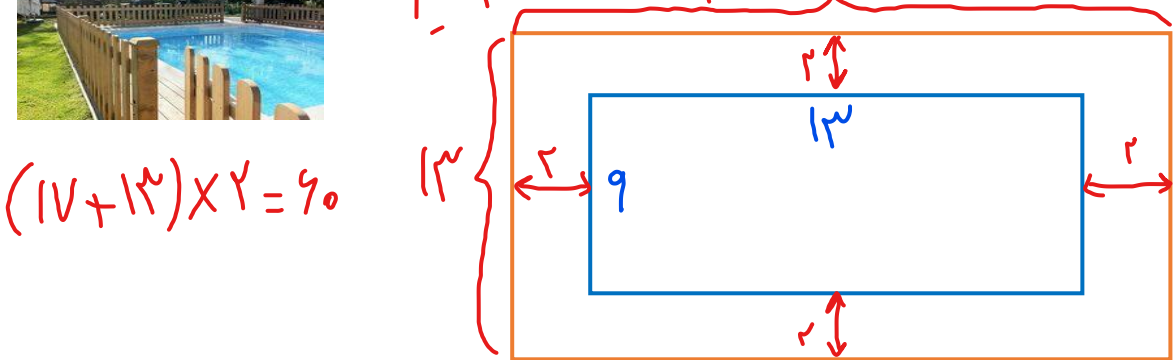


نام : _____		اداره گل آموزش و پرورش	
نام خانوادگی : _____		مدیریت آموزش و پرورش	
نام پدر : _____		دبیرستان : _____	
نمره : _____		نام و نام خانوادگی و امضای مصحح : _____	
فصل : ۱		نام درس : ریاضی هفتم	
مدت امتحان : دقیقه	تاریخ امتحان :	سوالات در صفحه	
نام کلاس :	دبیر :		

ردیف ۱

هر چه انسان وجود ارزشمندتری داشته باشد به همان اندازه مؤدب و فروتن است. «پروفسور حسابی»

۱ استخر مستطیل شکلی به ابعاد ۱۳ و ۹ متر داریم. می خواهیم دور این استخر را به فاصله ۲ متر از لبه ها نرده کشیده ایم، چند متر نرده لازم داریم؟



$(13 + 9) \times 2 = 44$

۶۰ متر نرده لازم داریم

۲ حاصل جمع سه عدد طبیعی ۱۴ و حاصل ضرب آنها ۳۶ است. آن سه عدد را پیدا کنید.

کدر دوم	کدر سوم	کدر اول	بررسی (جمع = ۱۴)
۲	۱۸	۱	$1 + 2 + 18 = 21$ X
۳	۱۲	۱	$1 + 3 + 12 = 16$ X
۴	۹	۱	$1 + 4 + 9 = 14$ 😊 ✓

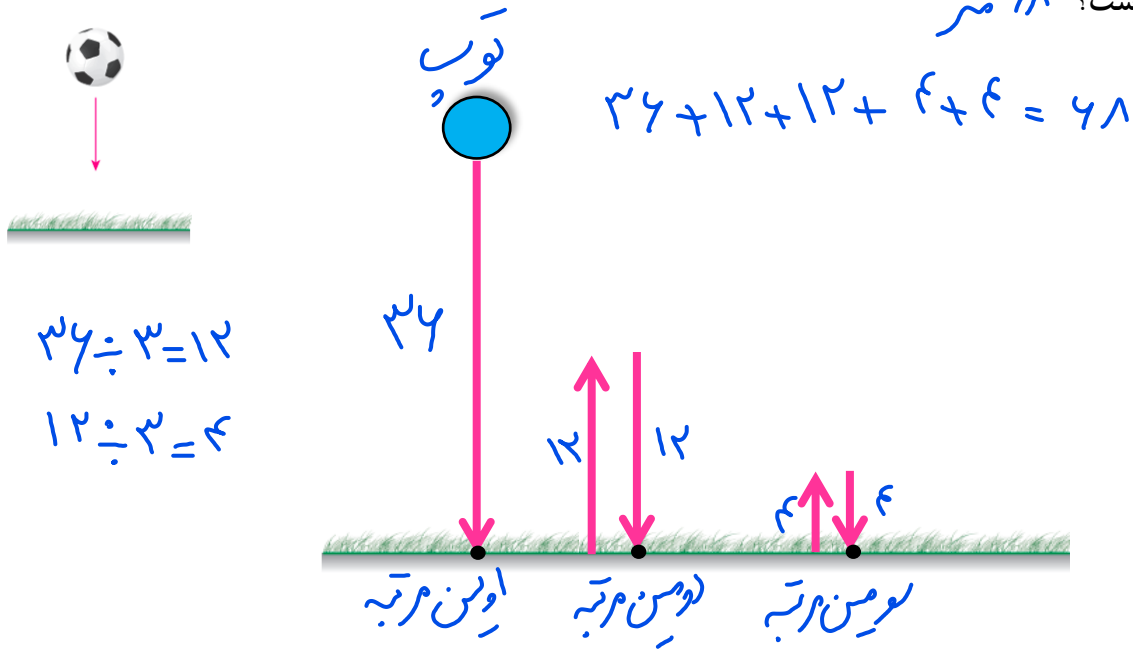
۳ حلزونی پایین درخت ۸ متری قرار دارد. اگر هر روز ۲ متر به طرف بالا حرکت کند و هنگام شب ۰/۵ متر به سمت پایین لیز بخورد، این حلزون روز چندم به بالای درخت می رسد؟

صبح روز

۴

تویی را از ارتفاع ۳۶ متری سطح زمین رها می کنیم. این توپ پس از برخورد به زمین به اندازه  $\frac{1}{3}$  مسیر قبلی به بالا بر می گردد. حساب کنید در لحظه ی برخورد سوم این توپ با زمین، توپ چه مسافتی را طی کرده است؟ **۶۸ متر**



۵

با اسکناس های ۱۰۰۰ و ۲۰۰۰ تومانی به چند حالت می توان ۶۰۰۰ تومان را پرداخت کرد؟ **۴ حالت**



۲۰۰۰ تومانی	۱۰۰۰ تومانی	بررسی
۵	۶	$(5 \times 2000) + (6 \times 1000) = 6000$
۱	۴	$(1 \times 2000) + (4 \times 1000) = 6000$
۲	۲	$(2 \times 2000) + (2 \times 1000) = 6000$
۳	۵	$(3 \times 2000) + (5 \times 1000) = 6000$


۶

محیط یک مستطیل به طول ۷ و عرض ۳ سانتی متر با محیط یک لوزی برابر است. اندازه ی هر ضلع لوزی چند سانتی متر است؟ **۵**

$20 = (7 + 3) \times 2 \Rightarrow$  **محیط مستطیل**

$20 = 4 \times$  **محیط لوزی**

$20 = 4 \times$  **ضلع**



$20 \div 4 = 5$

اندازه ی هر ضلع لوزی ۵ سانتی متر است

۱ پریسا به ۲۰ سوال چهارگزینه ای پاسخ داد. هر پاسخ درست، سه امتیاز مثبت و هر پاسخ غلط یک امتیاز منفی دارد. اگر پریسا از این آزمون ۴۸ امتیاز گرفته باشد، به چند سوال، پاسخ درست داده است؟

امتیاز مثبت	امتیاز منفی	مجموع امتیازها = ۴۸
۱۰	۱۰	$(10 \times 3) - 10 = 20 \times \text{☹}$
۱۵	۵	$(15 \times 3) - 5 = 40 \times \text{☹}$
۱۶	۴	$(16 \times 3) - 4 = 44 \times \text{☹}$
۱۷	۳	$(17 \times 3) - 3 = 48 \checkmark \text{☺}$


۱ با رقم های ۰، ۳، ۵ و چند عدد سه رقمی می توان نوشت که هم بر ۲ و هم بر ۵ بخش پذیر باشند؟

صدگان	دهگان	یکان
۵	۳	۰
۳	۰	۵

$$\boxed{2} \times \boxed{3} \times \boxed{1} = 6$$

تکرار ارقام مجاز است.  
 عددی بر ۲ و ۵ بخش پذیر است هر دو بخش پذیر باشد  
 پس یکان ۰ تواند رقم ۰ باشد.  
 ۵۳۰ و ۵۰۰ و ۵۵۰  
 ۳۳۰ و ۳۰۰ و ۳۵۰


۱ اگر شکل ها به همین ترتیب ادامه پیدا کنند چه کسری از گلبرگ ها در شکل هشتم رنگی است؟



شماره شکل	(۱)	(۲)	(۳)	(۴)	...	(۸)
کسر گلبرگهای رنگی	$\frac{2}{5}$	$\frac{5}{10}$	$\frac{8}{15}$	$\frac{11}{20}$	...	$\frac{23}{40}$

$\frac{2}{5}, \frac{5}{10}, \frac{8}{15}, \frac{11}{20}, \frac{14}{25}, \frac{17}{30}, \frac{20}{35}, \frac{23}{40}$   
 $+5$

۱ نرگس عکس تولدش که ابعاد آن ۱۰ و ۱۵ سانتی متر است را درون قابی به ابعاد ۱۶ و ۲۴ سانتی متر قرار داده است. شیشه ی قاب عکس دقیقاً اندازه ی عکس می باشد. مساحت لبه های قاب عکس چند سانتی متر مربع است؟



سانتی متر مربع  $150 = 15 \times 10 =$  مساحت عکس تولد

سانتی متر مربع  $384 = 24 \times 16 =$  مساحت قاب عکس

سانتی متر مربع  $234 = 384 - 150 =$  مساحت لبه ی قاب عکس یعنی  
قسمت قهوه ای زرد در شکل